

ΑΠΟΛΥΤΗΡΙΕΣ ΕΞΕΤΑΣΕΙΣ Δ' ΤΑΞΗΣ
 ΕΝΙΑΙΟΥ ΕΣΠΕΡΙΝΟΥ ΛΥΚΕΙΟΥ
 ΔΕΥΤΕΡΑ 9 ΙΟΥΝΙΟΥ 2003
 ΕΞΕΤΑΖΟΜΕΝΟ ΜΑΘΗΜΑ
 ΘΕΤΙΚΗΣ ΚΑΙ ΤΕΧΝΟΛΟΓΙΚΗΣ ΚΑΤΕΥΘΥΝΣΗΣ:
 ΦΥΣΙΚΗ
 ΣΥΝΟΛΟ ΣΕΛΙΔΩΝ: ΕΠΤΑ (7)

ΘΕΜΑ 1ο

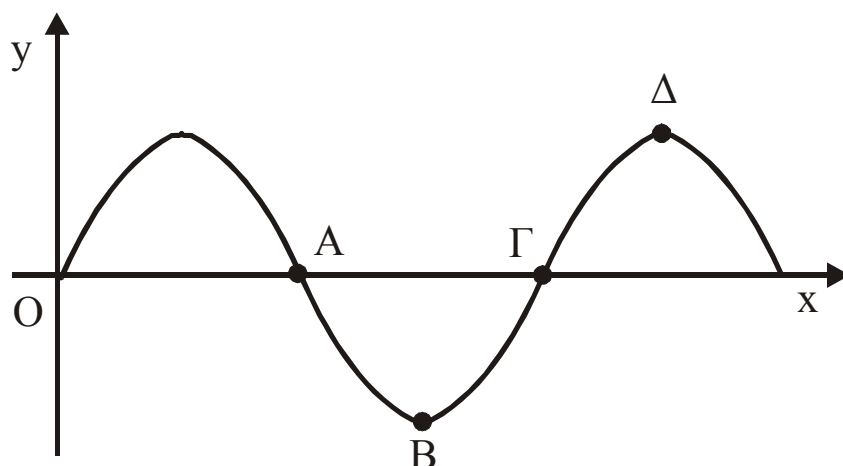
Στις προτάσεις 1.1 έως 1.4 να γράψετε στο τετράδιό σας τον αριθμό της αρχικής φράσης και, δίπλα, το γράμμα που αντιστοιχεί στο σωστό συμπλήρωμά της.

1.1 Η μονάδα μέτρησης της στροφορμής είναι

- α. $1 \text{ kg} \cdot \text{m}^2/\text{s}$. β. $1 \text{ kg} \cdot \text{m}/\text{s}^2$.
 γ. $1 \text{ kg} \cdot \text{m}^2$. δ. $1 \text{ kg} \cdot \text{m}/\text{s}$.

Μονάδες 5

1.2 Το παρακάτω σχήμα παριστάνει στιγμιότυπο εγκάρσιου αρμονικού κύματος. Το σημείο του ελαστικού μέσου που κινείται με μέγιστη ταχύτητα και φορά προς τα επάνω είναι το



- α. Α . β. Β . γ. Γ . δ. Δ .

Μονάδες 5

1.3 Δύο απλές αρμονικές ταλαντώσεις πραγματοποιούνται στο ίδιο σημείο, έχουν την ίδια διεύθυνση και συχνότητα, και πλάτη A_1 και A_2 . Αν οι ταλαντώσεις αυτές παρουσιάζουν διαφορά φάσης 180° , τότε το πλάτος A της σύνθετης ταλάντωσης που προκύπτει από τη σύνθεσή τους είναι

α. $A = A_1 + A_2$. **β.** $A = |A_1 - A_2|$.

γ. $A = \sqrt{A_1^2 + A_2^2}$. **δ.** $A = \sqrt{|A_1^2 - A_2^2|}$.

Μονάδες 5

1.4 Ένα σώμα εκτελεί γραμμική αρμονική ταλάντωση. Όταν διέρχεται από τη θέση ισορροπίας

- α.** η κινητική του ενέργεια είναι μηδέν.
- β.** η επιτάχυνσή του είναι μέγιστη.
- γ.** η δύναμη επαναφοράς είναι μηδέν.
- δ.** η δυναμική του ενέργεια είναι μέγιστη.

Μονάδες 5

1.5 Να χαρακτηρίσετε στο τετράδιό σας τις προτάσεις που ακολουθούν με το γράμμα Σ , αν είναι σωστές ή με το γράμμα Λ , αν είναι λανθασμένες.

- α.** Το μήκος κύματος μιας μονοχρωματικής ακτινοβολίας μειώνεται όταν αυτή περνά από ένα διαφανές μέσο (π.χ. γυαλί) στον αέρα.
- β.** Σε μια εξαναγκασμένη ταλάντωση, κατά το συντονισμό, η ενέργεια της ταλάντωσης είναι μέγιστη.
- γ.** Κατά την πλαστική κρούση δύο σωμάτων η μηχανική ενέργεια του συστήματος παραμένει σταθερή.
- δ.** Η γωνιακή επιτάχυνση ενός στερεού σώματος που περιστρέφεται γύρω από σταθερό άξονα είναι ανάλογη προς τη συνολική εξωτερική ροπή που ασκείται στο σώμα.

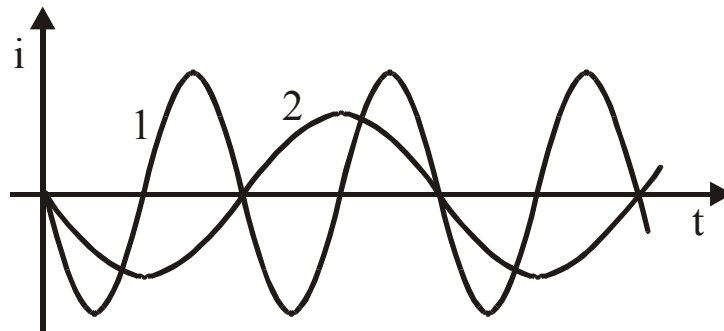
- ε. Αν η στροφορμή ενός στερεού σώματος παραμένει σταθερή, τότε η συνολική εξωτερική ροπή που ασκείται στο σώμα είναι μηδέν.

Μονάδες 5

ΘΕΜΑ 2ο

Στις προτάσεις 2.1.Α, 2.2.Α και 2.2.Γ να γράψετε στο τετράδιό σας τον αριθμό της αρχικής φράσης και, δίπλα, το γράμμα που αντιστοιχεί στη σωστή απάντηση.

- 2.1 Δύο ιδανικά κυκλώματα ηλεκτρικών ταλαντώσεων L, C έχουν πυκνωτές ίδιας χωρητικότητας $C_1 = C_2$. Στο παρακάτω διάγραμμα παριστάνονται οι μεταβολές των ρευμάτων που διαρρέουν τα δύο κυκλώματα σε συνάρτηση με το χρόνο.



- 2.1.Α Για τους συντελεστές αυτεπαγωγής των πηνίων L_1 και L_2 αντίστοιχα ισχύει:

α. $L_1 = \frac{L_2}{2}$. β. $L_1 = 4 L_2$.

γ. $L_1 = 2L_2$. δ. $L_1 = \frac{L_2}{4}$.

Μονάδες 3

- 2.1.Β Να δικαιολογήσετε την απάντησή σας στο 2.1.Α .
Μονάδες 5

2.2 Ένα σώμα μάζας m είναι προσδεμένο σε ελατήριο σταθεράς K και εκτελεί εξαναγκασμένη ταλάντωση. Η συχνότητα του διεγέρτη είναι $f = f_0$, όπου f_0 η ιδιοσυχνότητα του συστήματος.

Αν τετραπλασιάσουμε τη μάζα m του σώματος, ενώ η συχνότητα του διεγέρτη παραμένει σταθερή, τότε:

2.2.A Η ιδιοσυχνότητα του συστήματος

α. γίνεται $\frac{f_0}{2}$.

β. γίνεται $2 f_0$.

γ. παραμένει σταθερή.

Μονάδες 3

2.2.B Να δικαιολογήσετε την απάντησή σας στο 2.2.A .

Μονάδες 5

2.2.Γ Το πλάτος της ταλάντωσης του συστήματος

α. αυξάνεται.

β. ελαττώνεται.

γ. παραμένει σταθερό.

Μονάδες 3

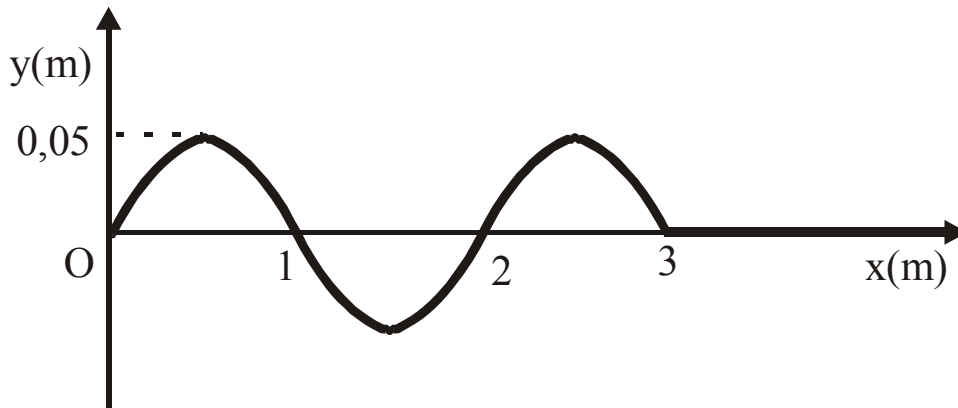
2.2.Δ Να δικαιολογήσετε την απάντησή σας στο 2.2.Γ .

Μονάδες 6

ΘΕΜΑ 3ο

Η πηγή κύματος O αρχίζει τη χρονική στιγμή $t_0 = 0 \text{ s}$ να εκτελεί απλή αρμονική ταλάντωση πλάτους $A = 0,05 \text{ m}$. Το αρμονικό κύμα που δημιουργείται διαδίδεται κατά μήκος γραμμικού ομογενούς ελαστικού μέσου, κατά τον άξονα Ox . Στο παρακάτω σχήμα απεικονίζεται το στιγμιότυπο του

κύματος μετά από χρόνο $t_1 = 0,3 \text{ s}$, κατά τον οποίο το κύμα έχει διαδοθεί σε απόσταση 3m .



α. Να βρείτε την ταχύτητα v διάδοσης του κύματος στο ελαστικό μέσο.

Μονάδες 5

β. Να βρείτε την περίοδο T του αρμονικού κύματος.

Μονάδες 5

γ. Να γράψετε την εξίσωση του αρμονικού κύματος.

Μονάδες 7

δ. Να απεικονίσετε το στιγμιότυπο του κύματος τη χρονική

$$\text{στιγμή } t_2 = t_1 + \frac{T}{4} .$$

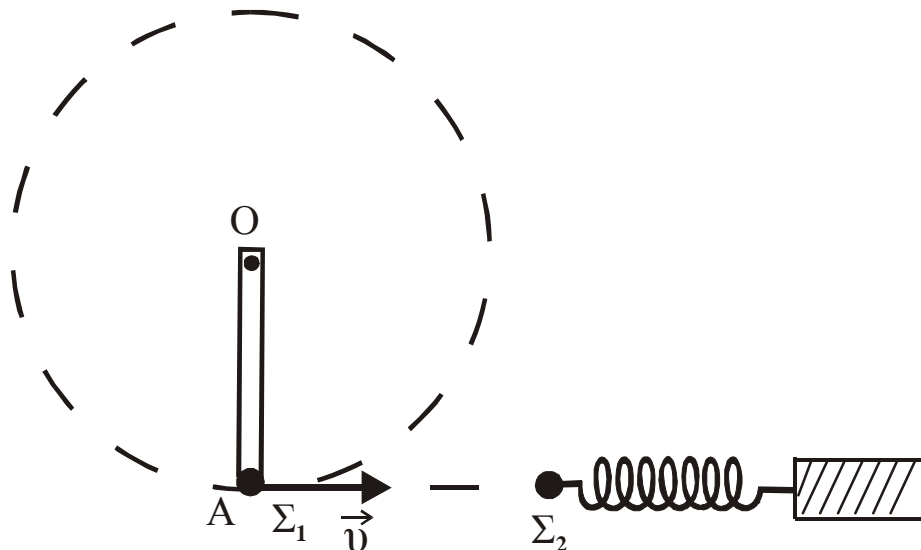
Μονάδες 8

ΘΕΜΑ 4ο

Ομογενής στερεά ράβδος OA , μήκους $L = 2 \text{ m}$ και μάζας $M = 0,3 \text{ kg}$ μπορεί να περιστρέφεται ελεύθερα (χωρίς τριβές) στο οριζόντιο επίπεδο, περί κατακόρυφο άξονα που διέρχεται από το σταθερό σημείο O . Στο άκρο A της ράβδου στερεώνεται σφαιρίδιο Σ_1 μάζας $m = 0,1 \text{ kg}$, και το σύστημα ράβδου και σφαιριδίου Σ_1 περιστρέφεται με σταθερή γωνιακή ταχύτητα $\omega = 1 \text{ rad/s}$. Στο ίδιο οριζόντιο επίπεδο βρίσκεται δεύτερο σφαιρίδιο Σ_2 , ίσης μάζας με το Σ_1 ,

προσδεμένο στο άκρο αβαρούς ελατηρίου, σταθεράς $K = 20 \text{ N/m}$. Ο άξονας του ελατηρίου είναι οριζόντιος και εφάπτεται της κυκλικής τροχιάς του σφαιριδίου Σ_1 (όπως στο σχήμα). Το άλλο άκρο του ελατηρίου είναι στερεωμένο ακλόνητα. Οι διαστάσεις των σφαιριδίων είναι αμελητέες.

Όταν η ταχύτητα \vec{v} του σφαιριδίου Σ_1 έχει τη διεύθυνση του άξονα του ελατηρίου, το σφαιρίδιο Σ_1 αποκολλάται από τη ράβδο και κινούμενο ευθύγραμμα συγκρούεται με το σφαιρίδιο Σ_2 με το οποίο ενσωματώνεται.



Να βρείτε:

- α. Τη στροφορμή του συστήματος ράβδου-σφαιριδίου Σ_1 ως προς τον άξονα περιστροφής που διέρχεται από το σημείο O.

Μονάδες 8

- β. Το μέτρο v της ταχύτητας του σφαιριδίου τη στιγμή που αποκολλάται από τη ράβδο.

Μονάδες 4

γ. Την περίοδο T της ταλάντωσης του συστήματος ελατηρίου-συσσωματώματος Σ_1 και Σ_2 .

Μονάδες 5

δ. Το πλάτος της ταλάντωσης αυτής.

Μονάδες 8

(Δίνονται: Η ροπή αδράνειας της ράβδου ως προς τον κατακόρυφο άξονα που διέρχεται από το σημείο O ,

$$I_0 = \frac{1}{3}ML^2 \quad \text{και} \quad \pi = 3,14).$$

ΟΔΗΓΙΕΣ (για τους εξεταζόμενους)

1. Στο τετράδιο να γράψετε μόνο τα προκαταρκτικά (ημερομηνία, κατεύθυνση, εξεταζόμενο μάθημα). Τα θέματα να μην τα αντιγράψετε στο τετράδιο.
2. Να γράψετε το ονοματεπώνυμό σας στο πάνω μέρος των φωτοαντιγράφων αμέσως μόλις σας παραδοθούν. Δεν επιτρέπεται να γράψετε καμιά άλλη σημείωση. Κατά την αποχώρησή σας να παραδώσετε μαζί με το τετράδιο και τα φωτοαντίγραφα.
3. Να απαντήσετε **στο τετράδιό σας** σε όλα τα θέματα.
4. Κάθε λύση επιστημονικά τεκμηριωμένη είναι αποδεκτή.
5. Διάρκεια εξέτασης: Τρεις (3) ώρες μετά τη διανομή των φωτοαντιγράφων
6. Χρόνος δυνατής αποχώρησης: Μία (1) ώρα μετά τη διανομή των φωτοαντιγράφων

ΚΑΛΗ ΕΠΙΤΥΧΙΑ

ΤΕΛΟΣ ΜΗΝΥΜΑΤΟΣ